
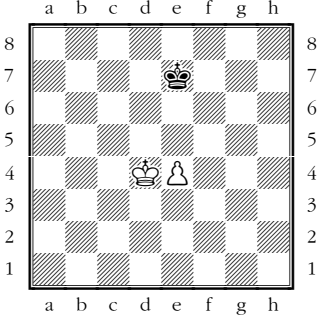
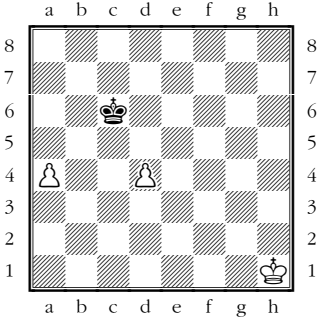
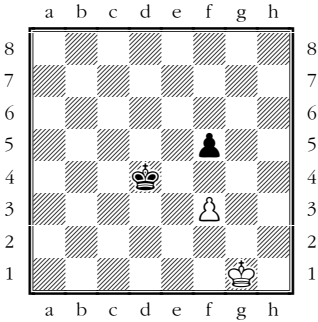
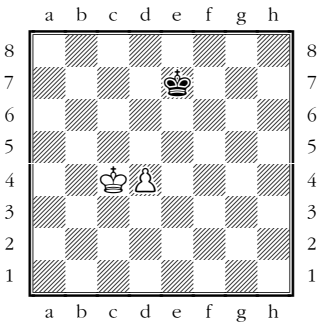





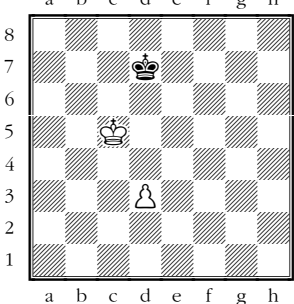






Test Bauernendspiel

<p>1</p>		<p>Die "kritischen" Felder der Bauern?</p> <p>a5:</p> <p>d5:</p> <p>g3:</p> <p>g7:</p>
<p>2</p>		<p>Ist diese Stellung für Weiss gewonnen? Sein bester Zug ist?</p>
<p>3</p>		<p>Schwarz am Zug. Der weisse König ist sehr weit weg, kann Weiss trotzdem gewinnen?</p>
<p>4</p>		<p>Schwarz hat Raumvorteil. Was muss Weiss spielen um trotzdem Remis zu halten?</p>
<p>5</p>		<p>Ist diese Stellung für Weiss gewonnen? Sein bester Zug ist?</p>

<p>6</p>		<p>Wer steht hier besser? Mit welchem Zug soll Weiss fortsetzen?</p>
<p>7</p>		<p>Weiss gewinnt. Welcher der Züge ♖b2, ♜c2 oder b4 ist am besten? Warum?</p>
<p>8</p>		<p>Der beste Zug für Weiss ist? Gewinnt er damit?</p>
<p>9</p>		<p>Wie gewinnt Weiss diese Stellung?</p>
<p>10</p>		<p>Was ist die beste Fortsetzung für Weiss? Ist die Stellung dann für ihn gewonnen?</p>

<p>11</p>		<p>Von den drei Zügen ♔d4, ♔d5 und d4 gewinnt nur einer. Welcher, warum?</p>
<p>12</p>		<p>Mit welcher "kleinen" Kombination gewinnt Weiss?</p>
<p>13</p>		<p>Wer steht hier besser? Begründe deine Einschätzung mit einer Variante.</p>
<p>14</p>		<p>Der beste Zug für Schwarz? Wie ist dann die Stellung einzuschätzen?</p>
<p>15</p>		<p>Weiss gewinnt. Der beste Zug ist?</p>